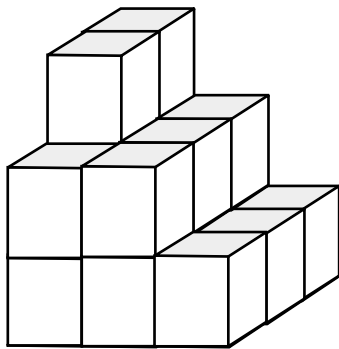


Vul het bouwplan in en kleur de afbeeldingen.

4.42 / 4



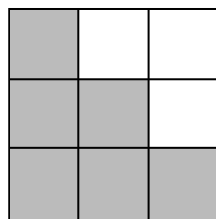
voor



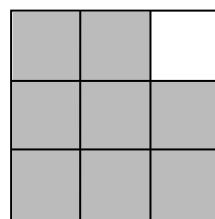
3	2	1
3	2	1
2	2	1

bouwplan

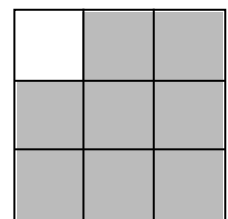
vooraanzicht



zijaanzicht links

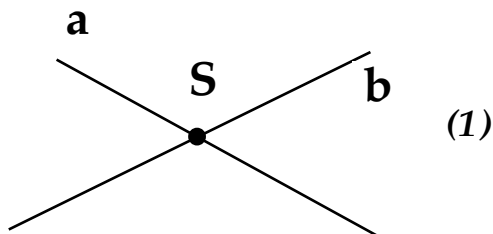


zijaanzicht rechts



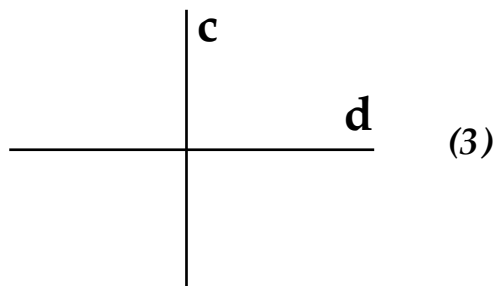
Teken rechte **a** en rechte **b** die elkaar snijden in snijpunt **S**.

4.43 / 8



a en *b* zijn twee **snijdende** rechten. (2)

Teken rechte **c** die een rechte hoek vormt met rechte **d**.
 Je mag gebruik maken van de geodriehoek.



c en *d* zijn **loodrechte** (4) rechten met als symbool: $c \perp d$ (5)

(vervolg op volgende bladzijde)